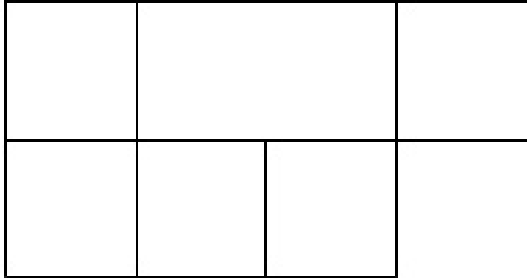


# Gehirnjogging

## Feige Rechtecke

In der Abbildung verstecken sich eine Reihe von Rechtecken. Können Sie alle erkennen? Wie viele Rechtecke können Sie sehen?



## Was passt nicht?

Welches der folgenden Elemente passt nicht in die Reihe:

Mars Erde Pluto Sonne Venus

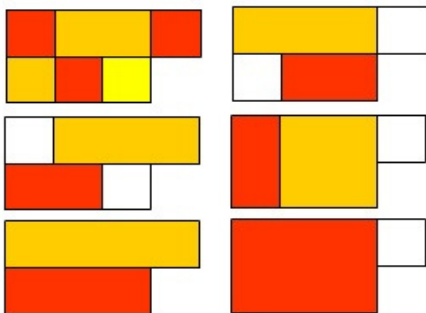


Mehr Aufgaben bei HirnSport.de

## Lösungen

### Feige Rechtecke

In dieser Figur verstecken sich 15 Rechtecke. Die Grafik zeigt mögliche Aufteilungen:



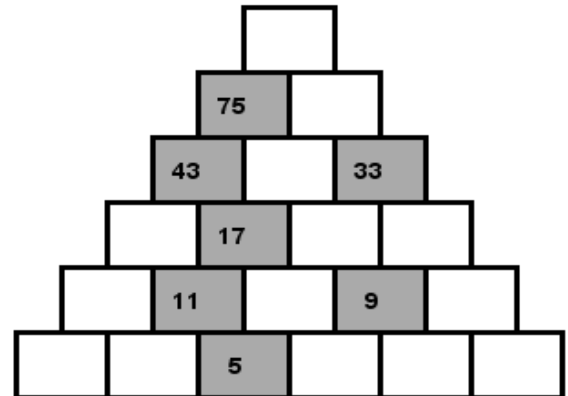
### Was passt nicht?

Die Sonne ist kein Planet sondern ein Stern.

# Gehirnjogging

## Pyramidenrechnen

In der Pyramide berechnet sich die Zahl in jedem Kästchen als Summe aus den Zahlen in den Kästchen darunter. In der untersten Zeile kommen nur Zahlen 1 bis 9 vor. Können Sie alle fehlenden Zahlen errechnen?



## Wortanalogie

Füllen Sie die Lücken in den Wortpaaren passend aus, indem Sie ähnliche oder analoge Verhältnisse schaffen.

März zu Oktober wie Juni zu \_\_\_\_.

Oma zu Tochter wie Opa zu \_\_\_\_.

Kürbis zu Halloween wie \_\_\_\_ zu St.Martin.

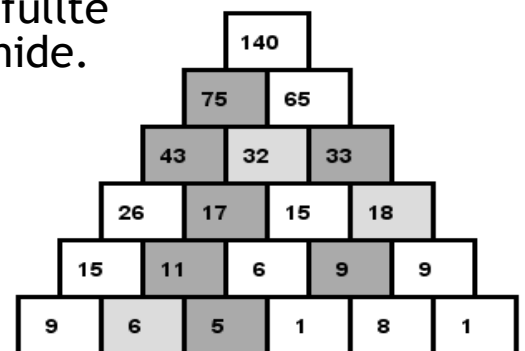


Mehr Aufgaben bei HirnSport.de

## Lösungen

### Pyramidenrechnen

Die Abbildung zeigt die fertig ausgefüllte Pyramide.



### Wortanalogie

März zu Oktober wie Juni zu Dezember.

Oma zu Tochter wie Opa zu Sohn.

Kürbis zu Halloween wie Laterne zu St.Martin.